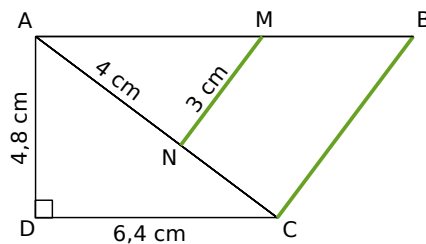


Exercice de recherche :

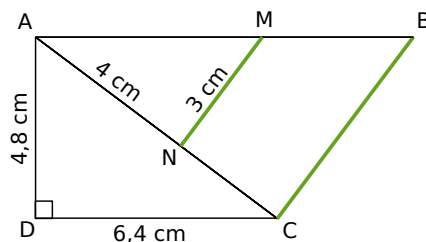
Sur la figure ci-dessous, les droites (MN) et (BC) sont parallèles et $AB = 10$ cm.



- a. Calcule BC.
- b. Démontre que le triangle ABC est rectangle.

Exercice de recherche :

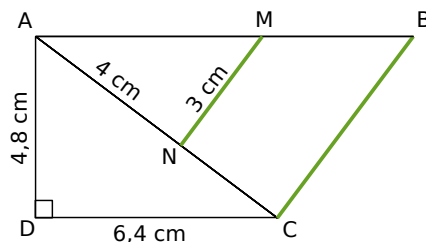
Sur la figure ci-dessous, les droites (MN) et (BC) sont parallèles et $AB = 10$ cm.



- a. Calcule BC.
- b. Démontre que le triangle ABC est rectangle.

Exercice de recherche :

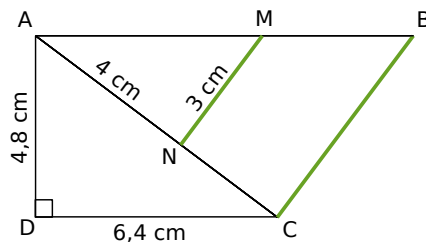
Sur la figure ci-dessous, les droites (MN) et (BC) sont parallèles et $AB = 10$ cm.



- a. Calcule BC.
- b. Démontre que le triangle ABC est rectangle.

Exercice de recherche :

Sur la figure ci-dessous, les droites (MN) et (BC) sont parallèles et $AB = 10$ cm.



- a. Calcule BC.
- b. Démontre que le triangle ABC est rectangle.